

Matte Direkt 5A Skriva

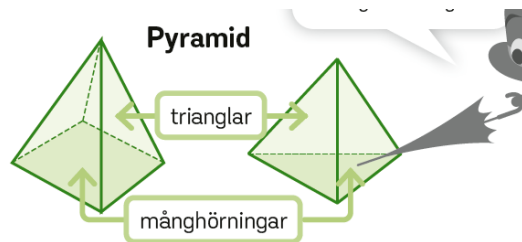
Kapitel	Sida	Uppgift	Rätt svar/Tillägg/Kommentar
2	40	Genomgångsrutan	<p>Saknad bildtext tillagd:</p> <p>Vi adderar tiondelar.</p> <p>0,8 + 0,7 = 1,5</p> <p>8 tiondelar + 7 tiondelar = 15 tiondelar</p> <p>10 tiondelar är 1 hel.</p>
50	32a		<p>32 a) $4,85 + 3,8$</p> <p>Korrigerad uppgift:</p>
59	71		<p>Korrigerad text:</p> <p>71 Lydia har en vattendunk som innehåller 4,8 liter vatten. Hon vill fylla på så att hon har totalt 10,13 liter vatten. Hur många flaskor av varje sort behöver hon? Välj bland flaskorna på bilden.</p>
63	Arbeta tillsammans		<p>Korrigerad text:</p> <p>Magisk kvadrat</p> <p>Summan av talen ska bli lika stor vågrätt →, lodrätt ↓ och diagonalt ↗↖.</p> <p>Rita av och skriv de tal som saknas.</p>

Kapitel	Sida	Uppgift	Rätt svar/Tillägg/Kommentar
---------	------	---------	-----------------------------

3	86	12a	$4,2 \cdot 6$
		12cd	Faktorerna ska byta plats.
		13ab	Faktorerna ska byta plats.
		13c	$32,5 \cdot 3$
		13d	$25,6 \cdot 3$
	88	18	Faktorerna ska byta plats.

Kapitel	Sida	Uppgift	Rätt svar/Tillägg/Kommentar
---------	------	---------	-----------------------------

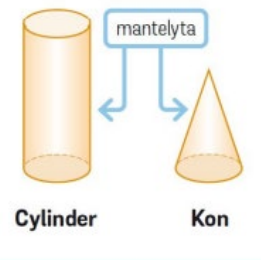
4	140	Genomgångsrutan	Korrigerad text:
---	-----	-----------------	------------------



Alla sidoytor utom en måste vara trianglar.

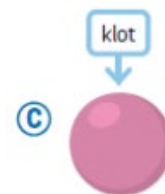
159 Genomgångsrutan

Komplettering bildtext



26

Komplettering, bildtext



27

Komplettering, bildtext

