


Gör en undersökning

Vilken är din
favoritglass vanilj,
jordgubb eller choklad?



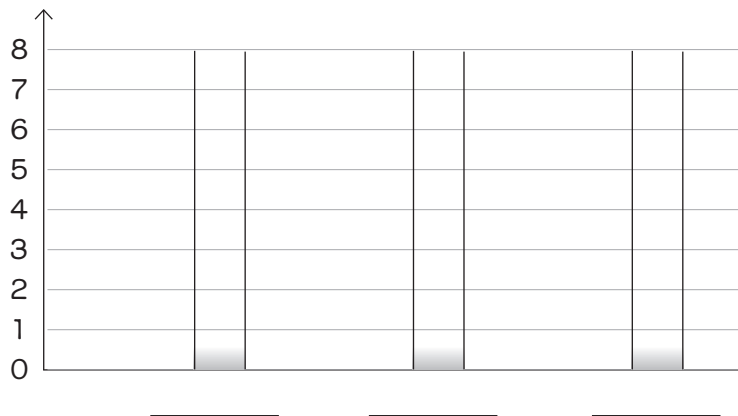
val	avprickning	antal
vanilj	////	4
jordgubb	/	1
choklad	///	3

- Fråga 8 personer vilken deras favorit är av tre val. Fyll i tabellen.

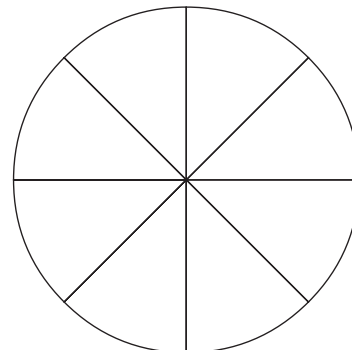
val	avprickning	antal

- Fyll i resultatet i stapeldiagrammet.

Antal röster









- Fyll i resultatet i cirkeldiagrammet.
Välj en färg till varje val som finns.
Varje röst är en av bitarna som ska målas.



- Skriv två frågor som man kan se svaret på i diagrammen.

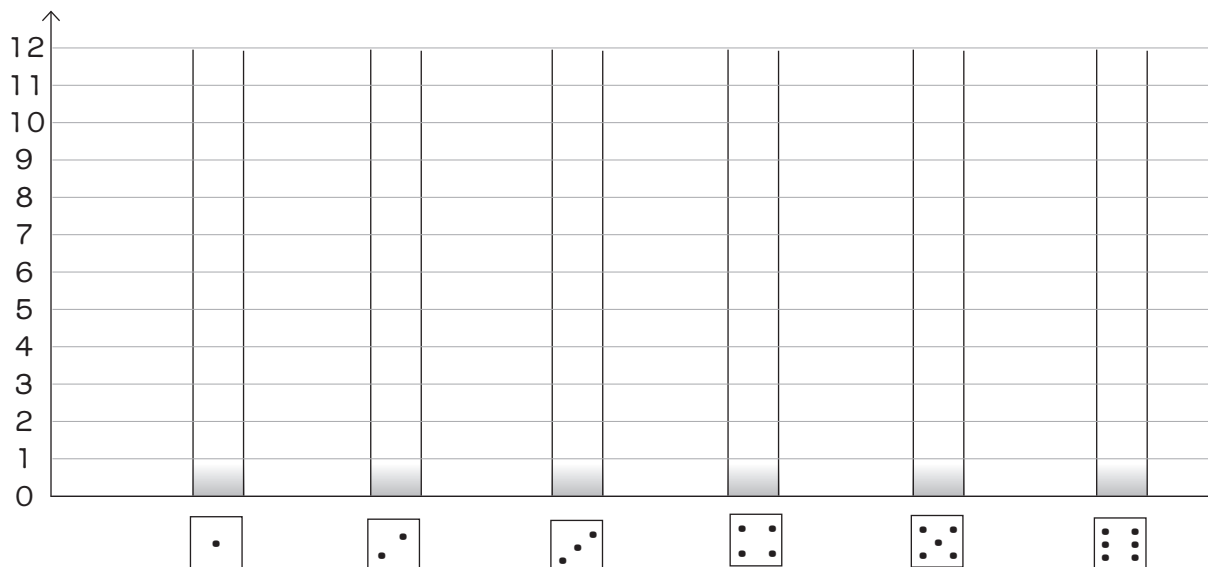
Kasta tärning

- Kasta en tärning 20 gånger. Fyll i tabellen.

	avprickning	antal
		
		
		
		
		
		

- Fyll i resultatet i stapeldiagrammet.

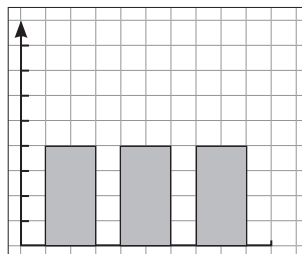
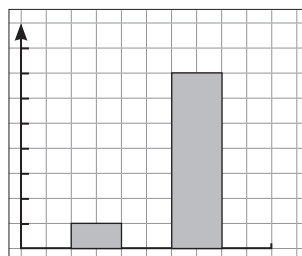
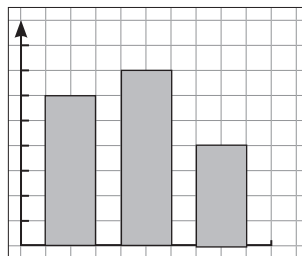
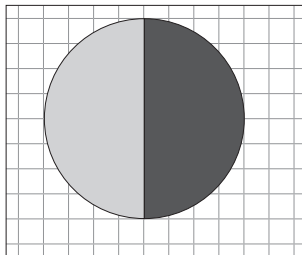
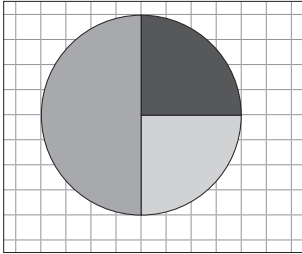
Antal kast



- Skriv två frågor som man kan se svaret på i diagrammet.

Diagram

- Para ihop barnen med rätt diagram (klipp ut eller dra streck).
Förklara hur du tänkte.



Tim

Vi röstade på
favoritdjur av hund
och katt. Hund fick
många fler röster
än katt.



Tanja

Vi röstade på
favoritfrukt av
päron, äpple och
banan. Päron vann
med en röst.



Gabriel

Vi fick rösta på
dansstopp eller
limbo på discot.
De fick lika många
röster var.



Hanna

Vi fick rösta på
dans, pingis eller
bandy på gympan.
Dans och bandy fick
lika många röster
och pingis vann.

- Ett diagram blir över. Hitta på en omröstning som kan ge det resultatet.
