


Sommarbingo från mattekompisarna i

Triumf

Läs och måla matteupdrag.

Träna
4:ans och 8:ans
tabell med
någon.



Fotografera tre
vinklar som är räta,
tre som är
spetsiga
och tre
som är
trubbiga.

Välj ett av
talen och
förklara varför
det ska bort.
Hitta flera
lösningar.



Visa och
förklara för någon
vad växla betyder
när du räknar ut
 $237 + 187$.



Turas om att slå
en tärning. Måla
en area med lika
många rutor som
tärningen visar.

Vem har störst
area efter
12 kast?

Visa och
förklara för
någon hur
du räknar ut
 $310 - 298$.



Träna
3:ans och 6:ans
tabell med
någon.

Rita en figur
med fem sidor,
fem hörn, två
räta vinklar, två
trubbiga vinklar
och en spetsig
vinkel. Vad heter
figuren?

Skriv fem tal
som är större
än 1 000 och
mindre än
10 000.

Storleksordna
talen.

Rita
en rektangel.
Måla tre
femtedelar av
rektangeln.



Kasta en
tärning.
Hur stor är
sannolikheten
att du slår en
6:a eller en 1:a?
Förklara.




Rita 12 bollar.
Måla $\frac{1}{3}$ av
bollarna grå
och $\frac{1}{4}$ av
bollarna
prickiga.

Hitta fyra
saker som väger
ungefär 1 kg.
Rita dina saker.



Skriv tre olika
bråk som är lika
mycket som en
hel.



Läs av
temperaturen
mitt på dagen
under en vecka.
Hur många
grader skiljer
det mellan den
kallaste och
den varmaste
dagen?

Skriv dagens
datum på tre
olika sätt.




Räkna ut en
addition med
uppställning.
Täck tre siffror i
uträkningen. Be
någon komma
på vilka siffror
som är täckta.

Rita en tallinje.
Markera talen
25, 50 och 75
på tallinjen.



Vi önskar dig ett härligt sommarlov
med massor av matematik!



Namn: _____